

Această carte  
de activități  
îți aparține:

---

---

---

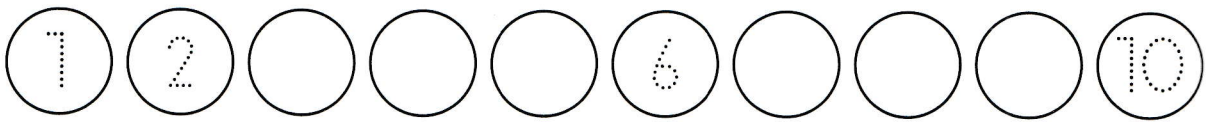


## De la primul la al zecelea


Când se dă tare în leagăn, Franklin poate vedea de sus o mulțime de locuitori ai Ținutului Pădurii. Se pare că azi toți se grăbesc să ajungă undeva!



numărul care arată poziția fiecărei păsări



prima a doua a treia a patra a cincea a șasea a șaptea a opta a noua a zecea

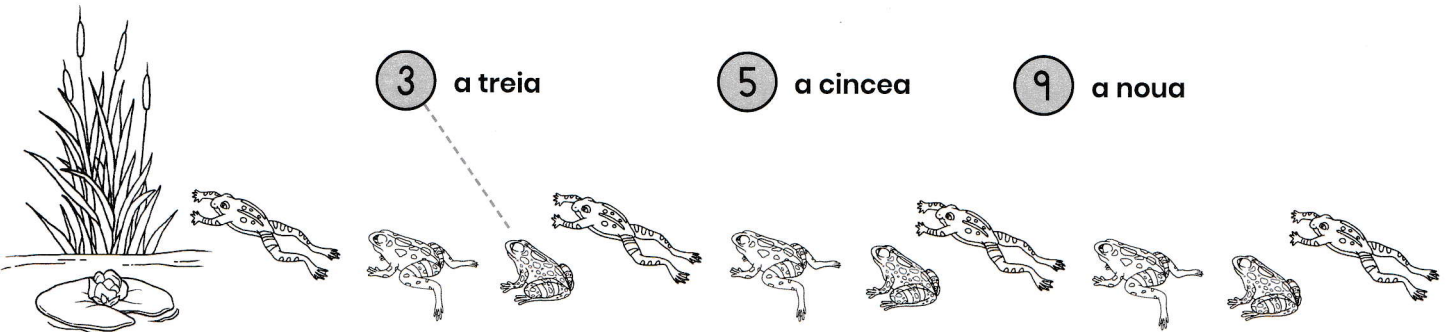


o linie care să unească fiecare număr cu creatura care ocupă acea poziție

2 al doilea 6 al șaselea 10 al zecelea



3 a treia 5 a cincea 9 a noua



- ✓ utilizați numerele ordinale de la primul la al zecelea
- ✓ spuneți numerele ordinale succesiv

# Mai mult de 10 baloane

Franklin dă o petrecere surpriză în cinstea lui Iepurilă! El vrea să decoreze camera cu mai mult de 10 baloane. În josul paginii veți descoperi câte baloane a folosit Franklin.

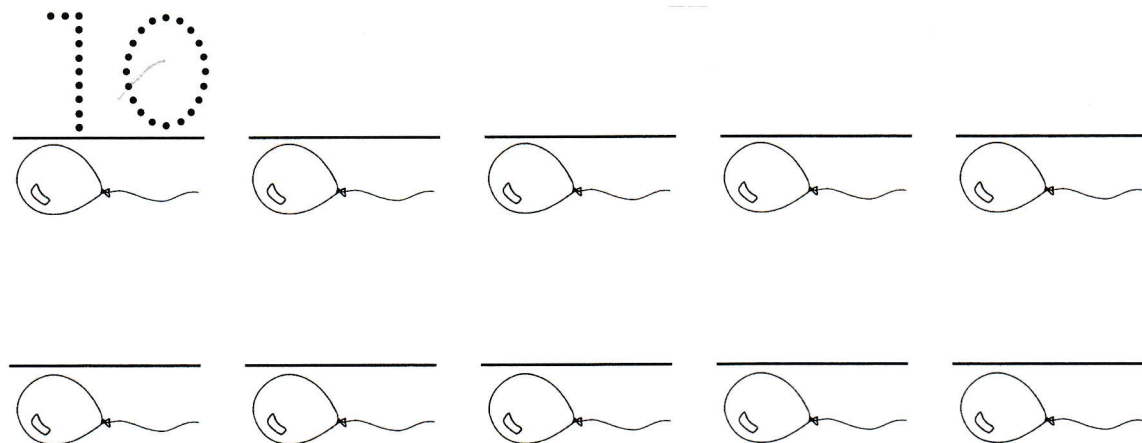


 scrieți numerele care alcătuiesc fiecare șir.

Trasați numerele.



Scrieți numerele de la 10 la 20



Franklin a folosit **nouăsprezece** baloane. Scrieți numărul aici:

- ✓ numărați cu voce tare din unu în unu de la 10 la 20
- ✓ citiți și scrieți numere de la 10 la 20



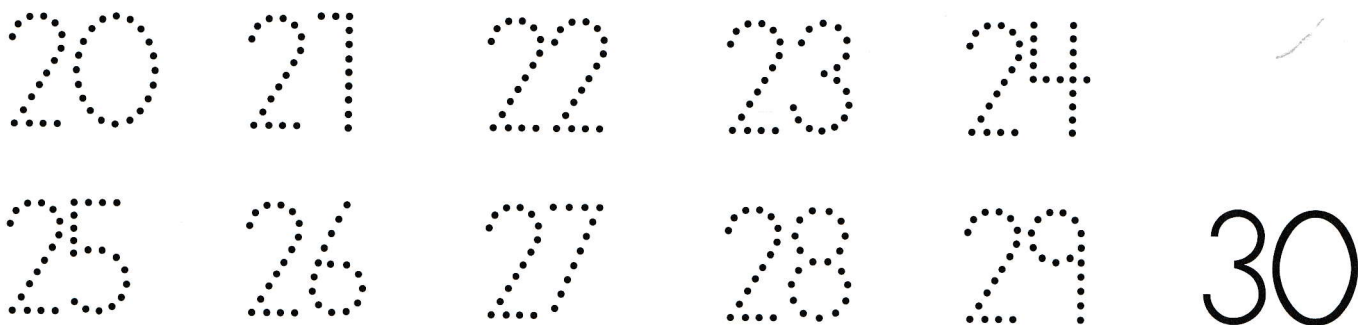
## Mai mult de 20 de peștișori

Franklin și Ursache adoră să pescuiască. Franklin crede că azi a prins mai mult de 20 de pești! În josul paginii veți descoperi câți peștișori a prins Franklin din iaz.

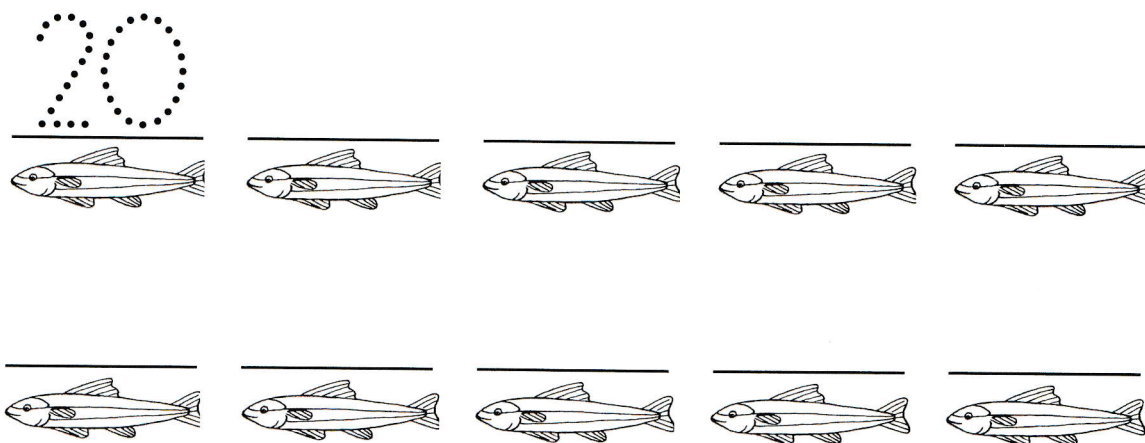


 **scrieți numerele care alcătuiesc fiecare șir.**

Trasați numerele.



Scrieți numerele de la 20 la 30.




Franklin a prins **douăzeci și patru** de pești. Scrieți numărul aici:

- ✓ numărați cu voce tare din unu în unu de la 20 la 30
- ✓ citiți și scrieți numere de la 20 la 30

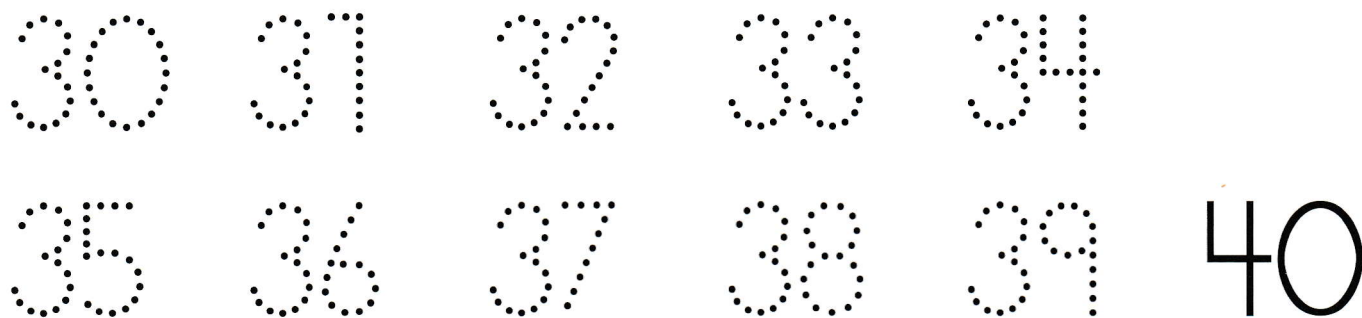
# Mai mult de 30 de morcovi

În fiecare zi la prânz, lepurilă mănâncă morcovi. El zice că poate mânca mai mult de 30 de bucăți. În josul paginii veți afla câți morcovi a mâncat azi lepurilă.

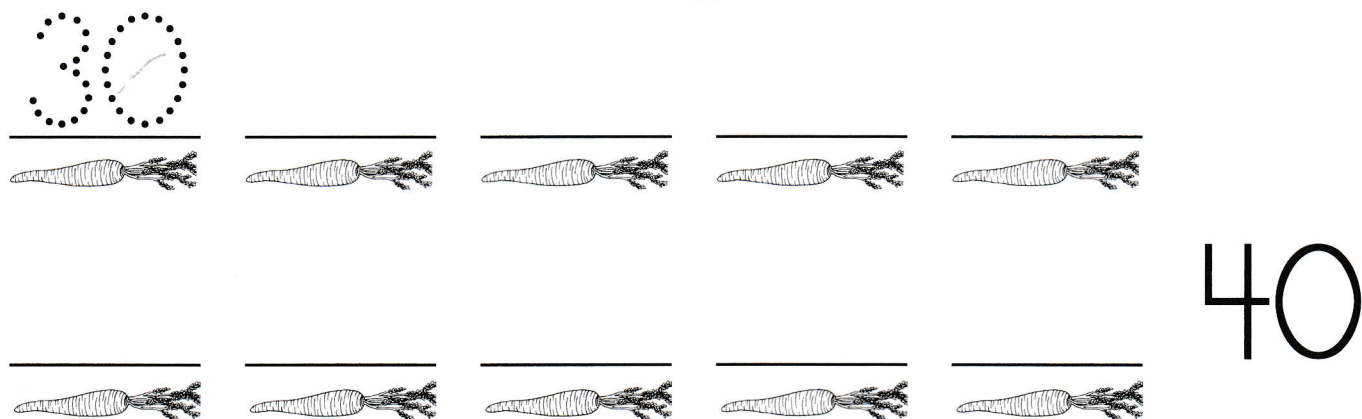


2 scrieți numerele care alcătuiesc fiecare șir.

Trasați numerele.



Scrieți numerele de la 30 la 40.



lepurilă a mâncat **treizeci și doi** de morcovi. Scrieți numărul aici:

- ✓ numărați cu voce tare din unu în unu de la 30 la 40
- ✓ citiți și scrieți numere de la 30 la 40

## Mai mult de 40 de bușteni

În fiecare primăvară, Castoraș face reparații la baraj. Ea zice că anul acesta va avea nevoie de mai mult de 40 de bușteni. În josul paginii veți afla câți bușteni a folosit.

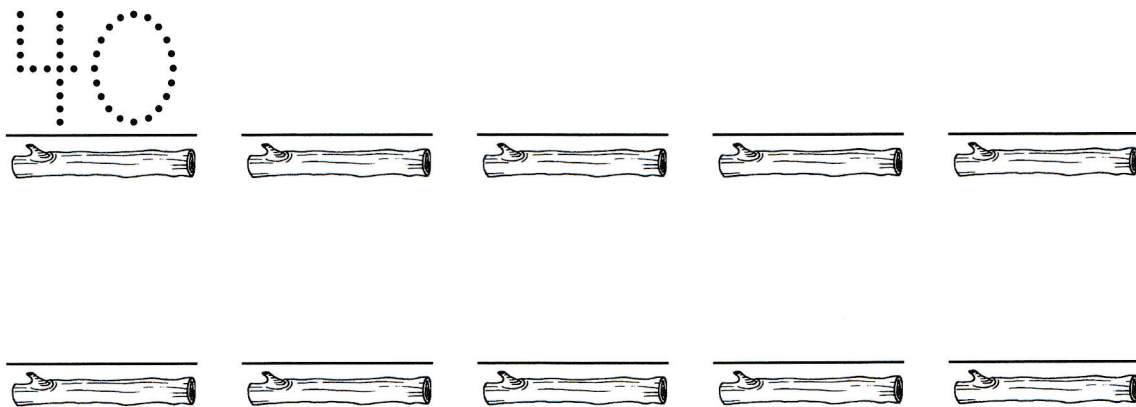


scrieți numerele care completează fiecare șir.

Trasați numerele.



Scrieți numerele de la 40 la 50.



Pentru repararea barajului, Castoraș a folosit **patruzeci și unu** de bușteni. Scrieți numărul aici:



# Mai mult de 50 de mure

A sosit sezonul murelor! Ursache crede că va culege mai mult de 50 de bucăți. În josul paginii veți descoperi câte mure a cules Ursache.



**scrieți numerele care completează fiecare șir.**

Trasați numerele.

50 51 52 53 54

55 56 57 58 59 60

Scrieți numerele de la 50 la 60.

50



60

Ursache a cules **cincizeci și trei** de mure. Scrieți numărul aici:

- ✓ numărați cu voce tare din unu în unu de la 50 la 60
- ✓ citiți și scrieți numere de la 50 la 60